

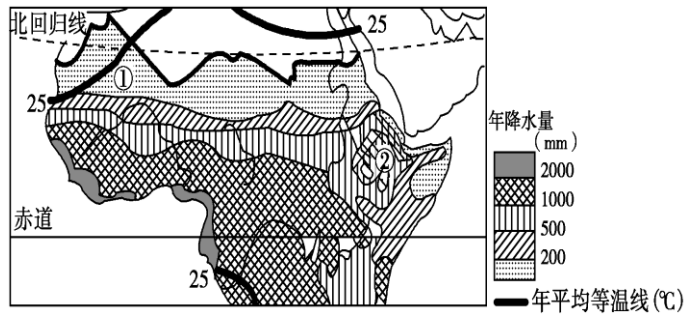
华师导航 2017 年华侨港澳台联考期中考试

1	2	3	4	5	6	7	8	9	10	11	12	13	14	15	16	17	18			

一，单选题

1. 赤道穿过的大洲中，面积最大的是 ()
 A. 亚洲 B. 非洲 C. 大洋洲 D. 南美洲
2. 下列海峡既是两大洋的分界线又是两大洲的分界线的是 ()
 A. 台湾海峡 B. 白令海峡 C. 马六甲海峡 D. 直布罗陀海峡

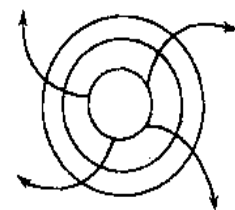
结合某区域地图，回答 3~4 题。



年降水量和年平均等温线分布图

3. ②地年降水量丰富的原因是 ()
 A. 终年受赤道低气压带控制 B. 东北信风带影响 C. 沿岸暖流经过 D. 多地形雨
4. 有关该区域的叙述，不正确的是 ()
 A. 东非大裂谷纵贯南北 B. 热带面积广大，气候炎热
 C. 矿产资源较贫乏 D. 经济较落后，人口自然增长率高

5. 从该天气系统所处半球和气压分布看，能判断出它属于 ()
 A. 东半球，高气压 B. 南半球，低气压
 C. 北半球，高气压 D. 西半球，低气压



6. 若该天气系统控制我国大部分地区，长江中下游地区可能出现 ()
 A. 伏旱天气 B. 梅雨天气 C. 出现台风 D. 寒冷天气

2001 年初，一份以 3000 名科学家的调查为基础撰写的报告预言：到 2010 年海平面将在现有基础上升 18 厘米到 80 厘米。在过去的十年里，海水已经侵蚀了图瓦卢 1% 的土地。11 月 15 日，美国权威华盛顿地球政策研究所专家预言，如果地球环境继续恶化，在五十年之内，由九个小岛组成的图瓦卢将全部没入海中，在世界地图上永远消失。据悉，基里巴斯、

库克群岛、瑙鲁和西萨摩亚等低地岛国也面临着与图瓦卢一样的威胁。据此回答 12~13 题:

7. 近百年来气候因素是造成海平面上升的最主要原因, 而气候变化归结于 ()
- A. 城市的热岛效应 B. 地质天文原因 C. 地区现代战争 D. 二氧化碳的温室效应
8. 专家估计, 到 21 世纪末, 全球气温将比现在增加 0.8°C 至 4.6°C , 这会导致海平面上升, 如何有效地控制海平面上升 ()
- A. 全球控制二氧化碳的排放量 B. 营造生态住宅和绿色家居
C. 降低人类社会工业化程度 D. 城市有序扩张和人口迁移
9. 温室气体包括哪些 ()
- A. 甲烷、一氧化碳、二氧化氮、氟利昂、二氧化碳 B. 甲烷、一氧化碳、一氧化二氮、氟利昂、二氧化碳
C. 甲烷、臭氧(对流层)、二氧化氮、氟利昂、二氧化碳 D. 甲烷、臭氧(对流层)、一氧化二氮、氟利昂、二氧化碳
10. 东经 123 度的区时是 5 月 1 号的 10:12 分, 求西经 66 度的地方时 ()
- A. 4 月 30 号 21 点 36 分 B. 4 月 30 号 21 点 48 分
C. 5 月 1 号 21 点 12 分 D. 4 月 30 号 21 点 12 分
11. 西经 123 度的地方时是 5 月 1 号的 10:12 分, 求西经 66 度的地方时 ()
- A. 5 月 1 号 6 点 24 分 B. 5 月 1 号 14 点 12 分
C. 5 月 1 号 6 点 12 分 D. 5 月 1 号 14 点 00 分
12. 目前世界第三大经济体是 ()
- A. 美国 B. 日本 C. 中国 D. 德国
13. 柬埔寨首都 ()
- A. 仰光 B. 内比都 C. 河内 D. 金边
14. 哪种情况下日温差最小 ()
- A. 昼晴, 夜晴 B. 昼阴, 夜晴 C. 昼晴, 夜阴 D. 昼阴, 夜阴
15. 自西向东越过 180 度经线 ()
- A. 加一天 B. 减一天 C. 同一天 D. 无法确定
16. 海南岛的形成, 按照原因来分属于 ()
- A. 珊瑚岛 B. 火山岛 C. 大陆岛 D. 冲积岛
17. 马里亚纳海沟属于 ()
- A. 生长带 B. 消亡带 C. 海岭 D. 洋脊

18. 直布罗陀海峡表层海水流向 ()

A. 地中海流向大西洋 B. 大西洋流向地中海 C. 无法确定 D. 季节不同方向不同

19. 夏季北方突下暴雨的可能原因 ()

A. 台风 B. 寒潮 C. 快行暖锋 D. 快行冷锋

20. 被副高和中纬西风带交替控制的气候其植被景观是 ()

A. 稀树草原 B. 亚热带常绿阔叶林 C. 亚热带常绿硬叶林 D. 温带落叶阔叶林

二、简答题 (每题 10 分)

21. 图 4 是气候类型和洋流分布图, 读图 4 回答:

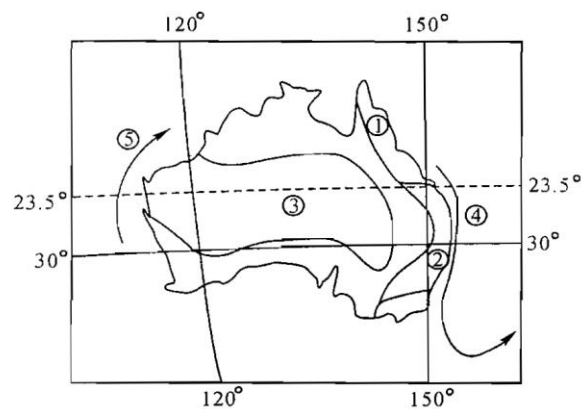


图 4

气候类型的名称: ①是_____气候; ②是_____气候;

③是_____气候。洋流名称: ④是_____ ; ⑤是_____。

22. 读图, 完成下列问题 (10 分)



(1) (2 分) 中国首次北极科学考察航线经过的板块有太平洋板块、_____ 板块和_____ 板块。

(2) (4 分) 沿这条航线, 海洋表层水温逐渐变_____, 原因是

纬度大洋相比，上海附近海区表层盐度较____，主要原因是

(3) 近年来，有关北冰洋的国际竞争愈演愈烈，简述这些国家产生竞争的主要原因（4分）。

23. 读图 11 “某岛屿图”，回答问题。（10分）



图 11

(1) 描述该岛屿河流的水文特征。（5分）

(2) 分析该岛屿森林树种丰富的自然原因。（5分）

24. 日本工业布局在太平洋沿岸的原因？

三、综合分析题

25. 简答四川盆地与青藏高原气温和太阳辐射的差异及原因？

26. 北京时间 5 月 1 号 10:20 王先生从北京（116° E）坐飞机向东飞行 17 小时 20 分钟到达华盛顿（76° W）。问（1）飞机穿过了几个时区？（2）到达时候华盛顿的区时？（3）起飞时候华盛顿时间是多少？